


1. Решите ребус:



2. Из словосочетания выпало 4 гласные буквы и один пробел. Восстановите и запишите его:

ВЛЖСКИЙПРЧЛ

3. Найдите правило, по которому последовательно перемещаются буквы, и определите следующее сочетание:

МЕРЕЖКА
РЕЖЕКМА
ЖЕКЕМРА

4. Вспомнив порядковые номера букв в алфавите, разгадайте зашифрованное название птицы из 4 букв.


418125 = _____

5. Если в примере

$$П + А + Р + О + Х + О + Д = 24$$

буквы заменить цифрами от 1 до 6, то получим, что букве «О» в этом примере соответствует цифра... _____

6. Сколько треугольников на рисунке?



7. Какое число продолжит ряд?

1 2 2 7 3 12 4 17 5 22 6 _____

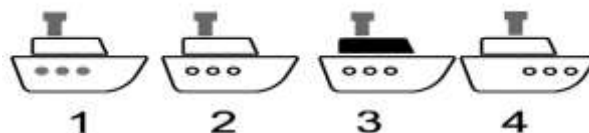
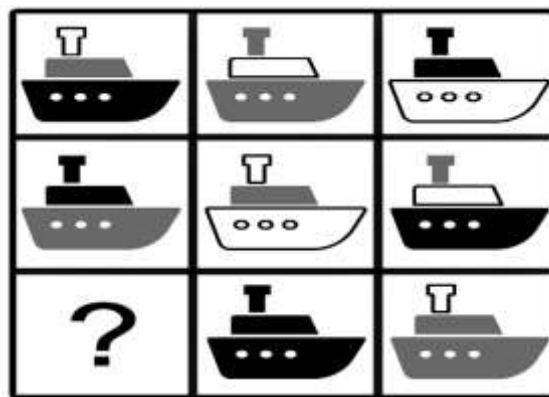
8. Выпишите номера двух одинаковых надписей:

1. Ижевск	2. иЖевск	3. ижЕвск
4. ижЕВск	5. ижеВск	6. ижеВСк
7. ижевсК	8. ижевСк	9. ИЖевск
10. иЖЕвск	11. ИжевсК	12. ижевск
13. иЖевСк	14. иЖЕВск	15. иЖЕвск

9. Если Свияга – 336, Дубна – 235, Ока – 213, то сколько в числовом выражении будет

Ветлуга? _____

10. Обведите номер рисунка, который нужно поставить вместо знака «?»



11. В клеточки первого ряда впишите название животного, которое во всех колонках образует слова, являющиеся нарицательными существительными в единственном числе:

И	Т	Р	Е
М	Р	А	К
А	О	Т	А

12. Какой рисунок повернут относительно других не в той же плоскости (обведите цифру)?

